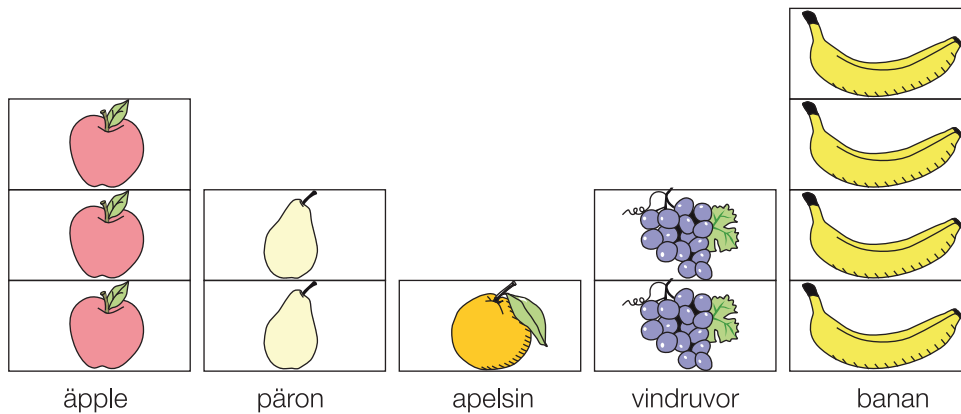


DIAGNOS STd2

Namn _____ Klass _____

- 1** Barnen på fritids väljer vilken frukt de vill ha till mellanmål.
Varje barn har satt en bild av sin frukt i diagrammet.



- a) Vilken frukt valdes av flest barn?

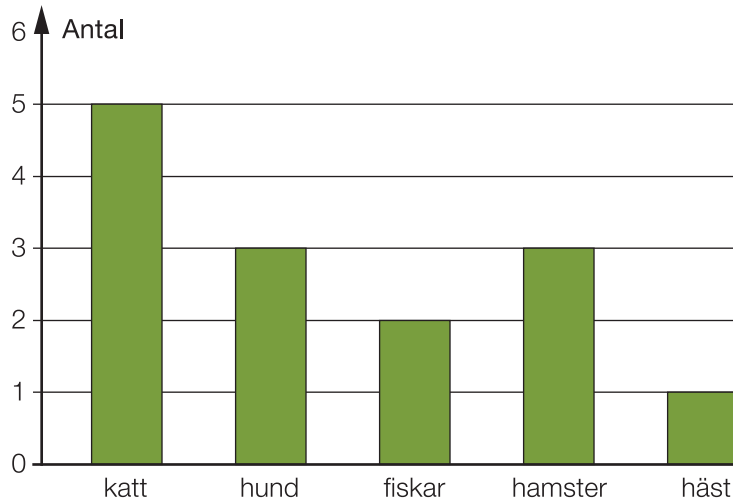
- b) Hur många barn valde päron?

- c) Vilken frukt valdes av tre barn?

- d) Hur många barn var det sammanlagt i gruppen?

DIAGNOS STd2

- 2** Barnen i en klass har fått frågan vilket husdjur de tycker bäst om. Resultatet ser du i det här diagrammet.



- a) Vilket husdjur tyckte flest barn om?

- b) Hur många av barnen tyckte bäst om hundar?

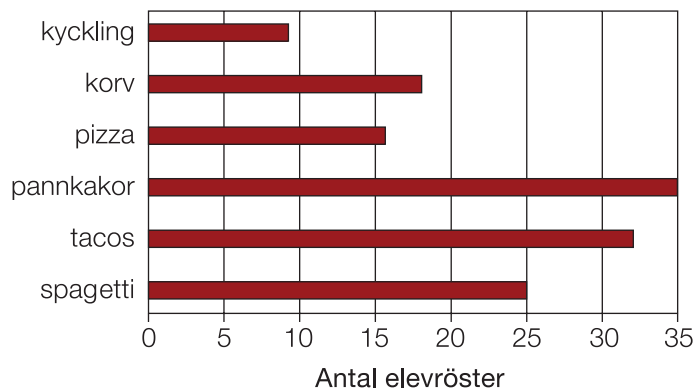
- c) Vilka två djur var lika omtyckta?

- d) Hur många barn var det sammanlagt i klassen?

DIAGNOS STd2

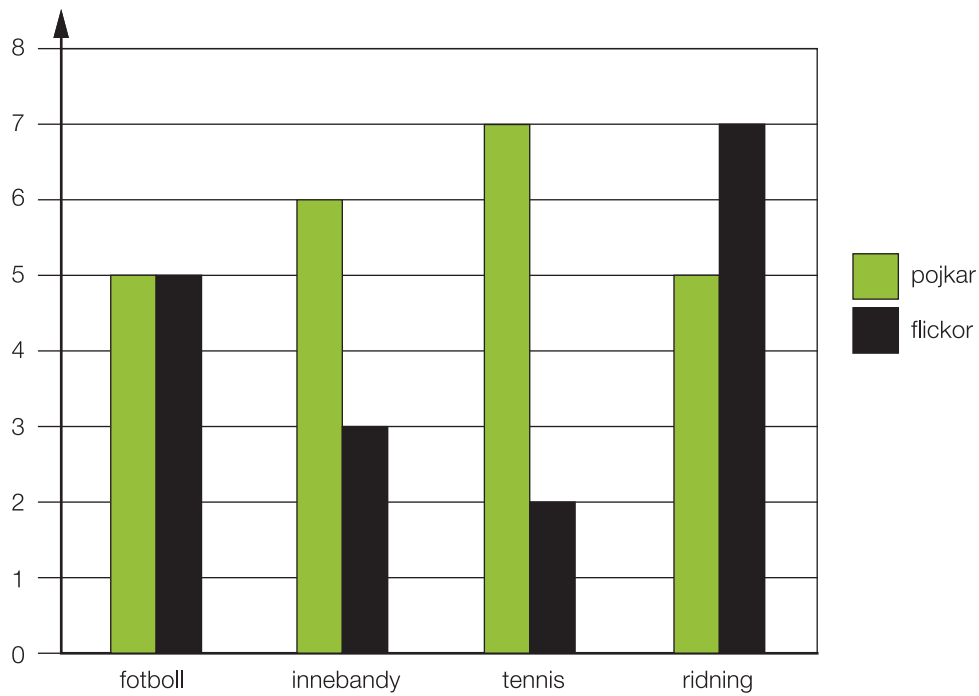
- 3** Elevrådet på Backaskolan vill vara med och bestämma vilken mat som ska serveras i matsalen. Varje elev fick därför rösta på sin favoriträtt. Var och en fick bara lämna en röst. Resultatet ser du i diagrammet.

- a) Vilken maträtt fick flest röster? _____
- b) Hur många röstade på spaghetti? _____
- c) Hur många röstade på korv? _____
- d) Vilka maträtter fick fler än 30 röster? _____
- e) Vilken maträtt fick 32 röster? _____



DIAGNOS STd2

- 4 Eleverna i en klass i Solängsskolan har svarat på en enkät om vilka idrotter de håller på med på sin fritid. Staplarna visar hur många pojkar och hur många flickor som håller på med de olika idrotterna.



- a) Hur många pojkar på Solängsskolan spelar innebandy? _____
- b) Hur många flickor på Solängsskolan spelar fotboll? _____
- c) Vilken idrott är vanligast bland pojkarna på Solängsskolan?

- d) Vilken idrott är vanligast bland flickorna på Solängsskolan?

- e) Vilken idrott håller flest elever på med på Solängsskolan? _____

DIAGNOS STd2

- 5 Under en bilresa gissar familjen gåtor. Linus prickar av vem som gissat rätt. När resan är klar ser resultatet ut så här.

	Antal rätt
Mamma	9
Pappa	4
Emma	3
Linus	6

Rita ett stapeldiagram som beskriver resultatet.



Mamma

Pappa

Emma

Linus